

Проверочная работа
по предмету «ОКРУЖАЮЩИЙ МИР»

4 класс

Вариант 5

Инструкция по выполнению работы

На выполнение работы по предмету «Окружающий мир» даётся 45 минут. Работа состоит из двух частей и включает в себя 10 заданий.

Ответы на задания запиши в поля ответов в тексте работы. Если ты хочешь изменить ответ, то зачеркни его и запиши рядом новый.

При выполнении работы не разрешается пользоваться учебником, рабочими тетрадями и другими справочными материалами.

При необходимости можно пользоваться черновиком. Записи в черновике проверяться и оцениваться не будут.

Советуем выполнять задания в том порядке, в котором они даны. Для экономии времени пропускай задание, которое не удаётся выполнить сразу, и переходи к следующему. Если после выполнения всей работы у тебя останется время, то ты сможешь вернуться к пропущенным заданиям. Постарайся выполнить как можно больше заданий.


Желаем успеха!

Часть 1

1

Рассмотри рисунок, на котором изображён читальный зал библиотеки. Выставочная витрина изготовлена из стекла. Она отмечена на рисунке стрелкой с соответствующей надписью.

Покажи на рисунке стрелкой любой предмет (любую деталь) из дерева и любой предмет (любую деталь) из бумаги. Подпиши название соответствующего материала рядом с каждой стрелкой.



2

На интернет-сайтах погоды можно встретить подобные таблицы. Изучи прогноз погоды на трое суток.

	Вторник, 17 апреля				Среда, 18 апреля				Четверг, 19 апреля			
	Ночь	Утро	День	Вечер	Ночь	Утро	День	Вечер	Ночь	Утро	День	Вечер
Облачность и атмосферные осадки												
Температура воздуха, °С	8	10	10	9	4	14	16	14	10	13	15	12
Направление ветра												
	Ю	СВ	СВ	ЮВ	Ю	ЮЗ	СЗ	С	С	СЗ	СЗ	З
Влажность воздуха, %	61	74	78	63	66	78	74	67	70	69	71	63

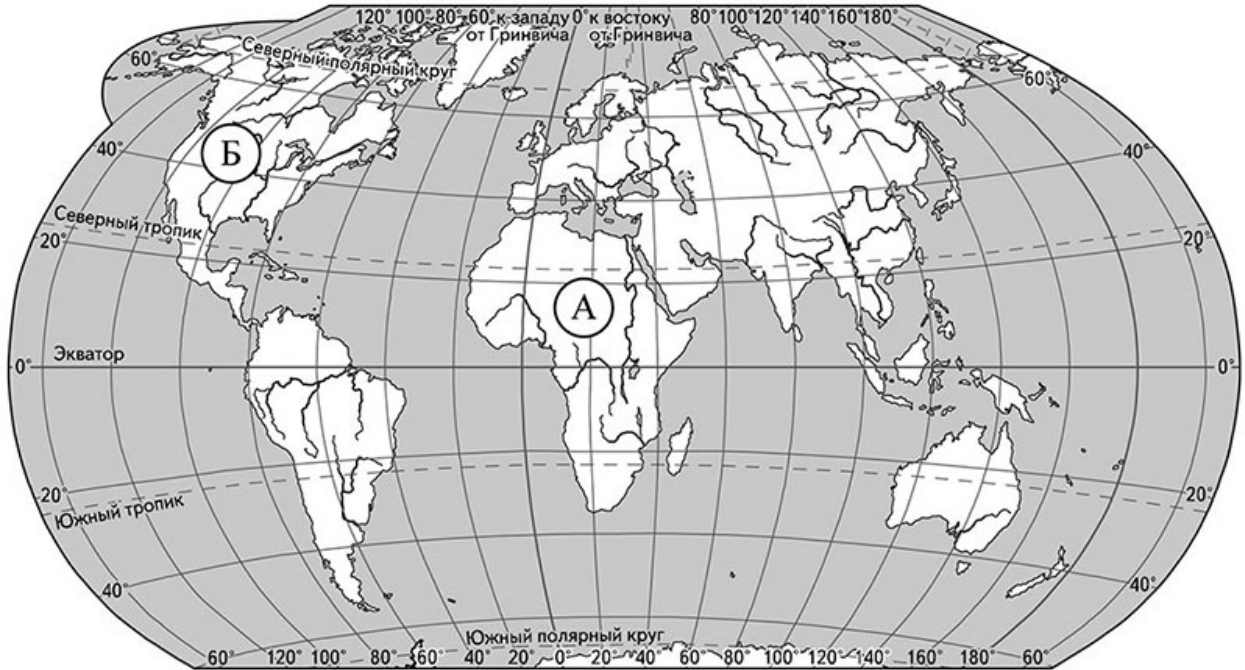
Выбери все верные утверждения об ожидаемой погоде на эти трое суток и запиши в строку ответа их номера.

- 1) Ночь со вторника на среду будет самой холодной за трое суток.
- 2) В течение всех трёх суток осадков не ожидается.
- 3) В четверг утром и днём будет дуть северо-западный ветер.
- 4) В ночь со среды на четверг влажность воздуха не изменится.

Ответ: _____

Рассмотри карту, фотографии и выполни задание 3.

3 Рассмотри карту мира. На ней буквами А и Б отмечены два материка.



3.1. Запиши название каждого материка в отведённое для этого поле.

Название материка **А**:

Название материка **Б**:

3.2. На следующей странице представлены фотографии бегемота (гиппопотама), зебры, скунса и медведя гризли. Запиши название каждого из этих животных рядом с номером фотографии, на которой оно изображено.

1) _____ 2) _____

3) _____ 4) _____

3.3. Какие из этих животных обитают в естественной среде (не в зоопарке) на материке А, а какие – на материке Б? Запиши в таблицу **номера** фотографий с изображением этих животных.

Ответ:


Материк	А	Б
Животные		



1)



2)



3)



4)

4) Составь два правила сохранения здоровья человека из приведённых частей фраз: для этого к каждой позиции первого столбца подбери соответствующую позицию из второго столбца.

Начало фразы

- А) Чтобы избежать перегрева на пляже,
- Б) Чтобы вытащить попавшую в глаз соринку,

Продолжение фразы

- 1) немного оттяни веко и осторожно удали её кончиком чистой салфетки.
- 2) воспользуйся специальной мазью.
- 3) не находишься постоянно на солнце, перемещайся в тень.

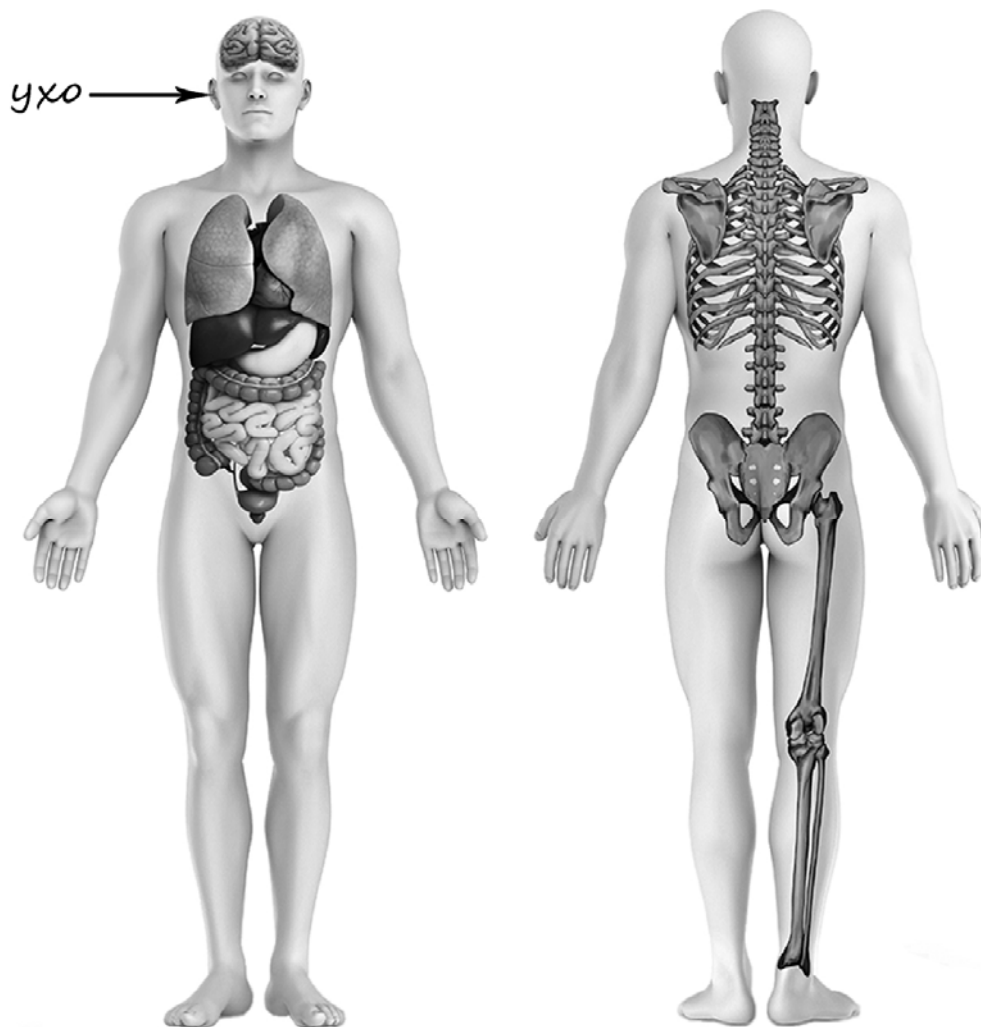
Запиши в таблицу выбранные цифры под соответствующими буквами.



Ответ:

Начало фразы	А	Б
Продолжение фразы		

- 5) Рассмотрите изображение человека. Покажите стрелками и подпишите *шею*, *поясницу* и *лёгкое* человека так, как показано на примере.



6 Андрей решил провести опыт с кипячением воды. Он взял две одинаковые ёмкости – металлические кастрюли, налил в них с помощью мерного стакана одинаковое количество воды: в первую кастрюлю горячую; во вторую холодную. Затем Андрей закрыл обе кастрюли одинаковыми крышками и поставил на две одинаковые конфорки электроплиты, включив одновременно одинаковый режим нагревания на обеих конфорках. Через непродолжительное время закипела вода в первой кастрюле, а ещё через некоторое время – во второй.

6.1. Сравни условия кипячения воды в ёмкостях в описанном опыте. Подчеркни в каждой строке одно из выделенных слов.

Материал, из которого сделаны ёмкости:	одинаковый / различный
Количество воды в ёмкостях:	одинаковое / различное
Исходная температура воды в ёмкостях:	одинаковая / различная

6.2. По результатам опыта сделай вывод о том, как влияет исходная температура воды в ёмкости на время её закипания.

Ответ: _____

6.3. Если бы Андрей захотел выяснить, влияет ли наличие соли в воде на время её закипания, с помощью какого опыта он мог бы это сделать? Опиши этот опыт.

Ответ: _____

Часть 2

При выполнении заданий 7–10 последовательно отвечай на каждый из представленных вопросов. Ответы записывай чётко и разборчиво, соблюдая нормы речи.

7) Рассмотрите знаки, изображённые на рисунках. Как ты думаешь, что, кроме формы, объединяет все эти знаки?

Ответ: _____



1)



2)



3)

Какое правило отражает каждый из этих знаков? Напиши эти правила.


1 – _____

2 – _____

3 – _____

8 На фотографиях изображены люди разных профессий за работой. Выбери ОДНУ из фотографий и запиши букву, под которой она приведена.

Представитель какой профессии изображён на выбранной фотографии? Какую работу выполняют люди этой профессии? Какие материалы / какое оборудование используют представители этой профессии в работе?



Выбранная фотография:

Ответ: _____

9

12 декабря в России отмечается День Конституции Российской Федерации. Обведи эту дату в календаре.

2018

Январь

ПН	ВТ	СР	ЧТ	ПТ	СБ	ВС
1	2	3	4	5	6	7
8	9	10	11	12	13	14
15	16	17	18	19	20	21
22	23	24	25	26	27	28
29	30	31				

Февраль

ПН	ВТ	СР	ЧТ	ПТ	СБ	ВС
			1	2	3	4
5	6	7	8	9	10	11
12	13	14	15	16	17	18
19	20	21	22	23	24	25
26	27	28				

Март

ПН	ВТ	СР	ЧТ	ПТ	СБ	ВС
			1	2	3	4
5	6	7	8	9	10	11
12	13	14	15	16	17	18
19	20	21	22	23	24	25
26	27	28	29	30	31	

Апрель

ПН	ВТ	СР	ЧТ	ПТ	СБ	ВС
						1
2	3	4	5	6	7	8
9	10	11	12	13	14	15
16	17	18	19	20	21	22
23	24	25	26	27	28	29
30						

Май

ПН	ВТ	СР	ЧТ	ПТ	СБ	ВС
	1	2	3	4	5	6
7	8	9	10	11	12	13
14	15	16	17	18	19	20
21	22	23	24	25	26	27
28	29	30	31			

Июнь

ПН	ВТ	СР	ЧТ	ПТ	СБ	ВС
				1	2	3
4	5	6	7	8	9	10
11	12	13	14	15	16	17
18	19	20	21	22	23	24
25	26	27	28	29	30	

Июль

ПН	ВТ	СР	ЧТ	ПТ	СБ	ВС
						1
2	3	4	5	6	7	8
9	10	11	12	13	14	15
16	17	18	19	20	21	22
23	24	25	26	27	28	29
30	31					

Август

ПН	ВТ	СР	ЧТ	ПТ	СБ	ВС
		1	2	3	4	5
6	7	8	9	10	11	12
13	14	15	16	17	18	19
20	21	22	23	24	25	26
27	28	29	30	31		

Сентябрь

ПН	ВТ	СР	ЧТ	ПТ	СБ	ВС
					1	2
3	4	5	6	7	8	9
10	11	12	13	14	15	16
17	18	19	20	21	22	23
24	25	26	27	28	29	30

Октябрь

ПН	ВТ	СР	ЧТ	ПТ	СБ	ВС
1	2	3	4	5	6	7
8	9	10	11	12	13	14
15	16	17	18	19	20	21
22	23	24	25	26	27	28
29	30	31				

Ноябрь

ПН	ВТ	СР	ЧТ	ПТ	СБ	ВС
			1	2	3	4
5	6	7	8	9	10	11
12	13	14	15	16	17	18
19	20	21	22	23	24	25
26	27	28	29	30		

Декабрь

ПН	ВТ	СР	ЧТ	ПТ	СБ	ВС
						1
2	3	4	5	6	7	8
9	10	11	12	13	14	15
16	17	18	19	20	21	22
23	24	25	26	27	28	29
30	31					



Запиши, на какой день недели приходится эта дата в 2018 году.



Ответ: _____

Как ты думаешь, с какой целью проводится торжественная церемония присяги избранного Президента Российской Федерации? (Напиши ответ объёмом до пяти предложений.)



Ответ: _____

10 10.1. Запиши название региона: республики, или области, или края, или автономного округа, в котором ты живёшь.

Ответ: _____



Как называется главный город твоего региона?

Ответ: _____

10.2. Производством каких товаров (продуктов) известен твой регион?

Ответ: _____

Какие животные (звери и птицы) встречаются в природе твоего региона (укажи не менее трёх животных)? Опиши одного из этих животных. Чем питается этот зверь или эта птица?

Ответ: _____